

ACTIVIDADES

- Completa las tablas del 5 y del 6 y apréndetelas.

Tabla del 5

| | | | | | | | | | |
|-----|---|---|---|---|---|---|---|---|---|
| x | 1 | 2 | 3 | 4 | 5 | 6 | 7 | 8 | 9 |
| 5 | | | | | | | | | |

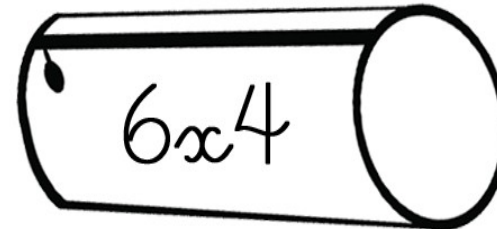
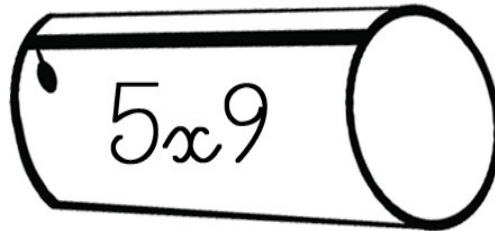
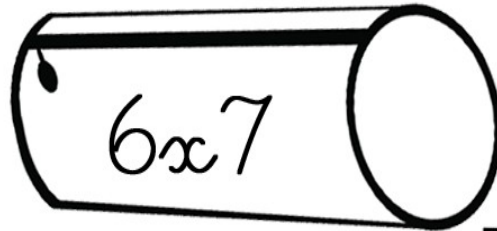
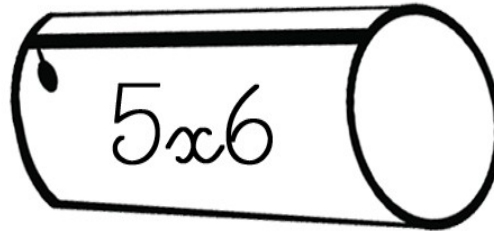
Tabla del 6

| | | | | | | | | | |
|-----|---|---|---|---|---|---|---|---|---|
| x | 1 | 2 | 3 | 4 | 5 | 6 | 7 | 8 | 9 |
| 6 | | | | | | | | | |

¿Cómo lo he hecho?



- Colorea del mismo color cada multiplicación y su resultado



¿Cómo lo he hecho?



- Resuelve

El pastelero hace 9 tartas al día.
¿Cuántas tartas hará en 5 días?

El pastelero hará tartas en 5 días

